

PANEJAMENTO DIDÁTICO PARA SER DESENVOLVIDO EM DOMICÍLIO

PROFESSORA: Fábria 3º ANO C Data 13/04/2020 a 17/04/2020

2ª FEIRA	3ª FEIRA	4ª FEIRA	5ª FEIRA	6ª FEIRA
	Atividade Leitura: Leia o texto O Misterioso gato, depois copie no caderno colocando ponto final nos lugares corretos	Atividade Leitura: Livro – a Canção dos Pássaros	Atividade Leitura: Livro – O menino e o foguete	Atividade Leitura: Azizi, o menino viajante
	Português	Matemática	Português	Matemática
	Produção textual: Minha família Escreva como é sua família	Meus números – Preencher a ficha com os números que tem na sua vida	Interpretação de texto: O diário de um gato	Resolução de situações problemas Resolver no caderno
FÉRIAS ESCOLARES	Ciências	Matemática	Arte	Matemática
	Livro didático de Ciências As cidades – pág. 34 a 36	Resolver no caderno as operações de adição. Será disponibilizado no grupo as operações, o aluno pode copiar no caderno e resolver		Fazer no caderno e estudar a tabuada do 3 e do 4.
	Matemática	Português	Música	Assistir ao filme: Pedro Coelho o filme https://youtu.be/wh2aSCMkzXA
	Resolução de situações problemas Resolver no caderno	Interpretação de texto: Sou um aluno nota 10		
	Ed. Física	Português	Português	Assistir ao filme: Pedro Coelho o filme https://youtu.be/wh2aSCMkzXA
		Interpretação de texto: Sou um aluno nota 10	Escrever no caderno e alfabeto e o nome completo fazendo uso da letra cursiva	

- Fazer cabeçalho sempre que tiver atividades para serem realizadas no caderno
- Colocar no cabeçalho:

Nome da escola

Atividades domiciliares, data

Nome completo do aluno.

Matemática - 3º ano (Para -casa) - Data: ____/____/____

Recortar, colar e resolver os probleminhas abaixo no caderno de para casa. Deixe as continhas no caderno.

1. Em um estádio de futebol cabem 550 pessoas. Entraram apenas 380. Quantas pessoas ainda faltam para lotar o estádio?

2. Roberto tem 32 selos em sua coleção. Paulo tem 24 selos. Quantos selos Roberto têm a mais que Paulo?

3. Um sorveteiro fez 63 picolés de goiaba, 29 de laranja e 18 de manga. Vendeu ao todo 46 picolés. Quantos picolés não foram vendidos?



4. Numa estante havia 120 livros. Colocaram mais 48 e depois retiraram 23. Quantos livros ficaram?



5. Para o aniversário de Didi foram feitos 50 empadinhas, 45 coxinhas e 90 canudinhos. Quantos salgados foram feitos ?



6. Um feirante tinha 138 mangas e 123 laranjas. Vendeu 114 frutas. Quantas frutas ainda restam?



7. Carlos tem 45 figurinhas. André tem 87. Quantas figurinhas os dois tem juntos?

Você já pensou nos números que existem na sua vida?

Preencha a ficha abaixo:

MEUS NÚMEROS

MEU NOME É _____, ESSE
NOME TEM _____ LETRAS.

NASCI COM _____ DE COMPRIMENTO E _____ DE PESO, NO DIA ____/____/____.

HOJE TENHO ____ ANOS DE IDADE, PESO ____ QUILOS E TENHO _____
CENTÍMETROS DE ALTURA.

NA MINHA CASA TEM _____ PESSOAS. A PESSOA MAIS VELHA DA CASA TEM _____
ANOS E A MAIS NOVA TEM _____ ANOS.

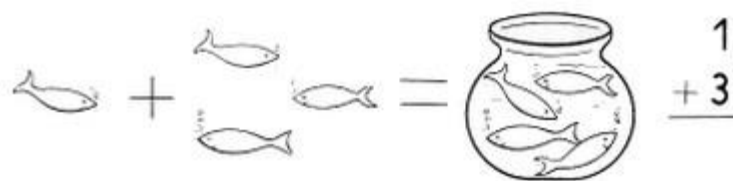
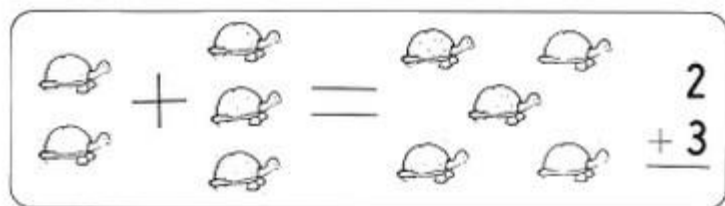
ESTOU NO _____ ANO DA ESCOLA E NA MINHA SALA TEM _____ ALUNOS,
SENDO _____ MENINOS E _____ MENINAS. MEU NÚMERO NA LISTA DE CHAMADA É _____
E NA MINHA ESCOLA TEM _____ SALAS DE AULA.

ACORDO TODOS OS DIAS ÀS _____ HORAS E VOU DORMIR _____ HORAS.
ENTRO NA ESCOLA ÀS _____ E SAIO ÀS _____ HORAS. TENHO _____ MINUTOS DE
INTERVALO E FAÇO A LIÇÃO DE CASA ÀS _____ HORAS.

MORO NA RUA _____

NÚMERO _____, O NÚMERO DO CEP É _____ E O NÚMERO DO
MEU TELEFONE É _____.

HOJE É ____/____/____.



$$\begin{array}{r} 135 \\ +623 \\ \hline \end{array} \quad \begin{array}{r} 246 \\ +450 \\ \hline \end{array} \quad \begin{array}{r} 352 \\ +535 \\ \hline \end{array} \quad \begin{array}{r} 460 \\ +339 \\ \hline \end{array}$$

$$\begin{array}{r} 625 \\ +240 \\ \hline \end{array} \quad \begin{array}{r} 32 \\ +455 \\ \hline \end{array} \quad \begin{array}{r} 745 \\ +33 \\ \hline \end{array} \quad \begin{array}{r} 56 \\ +722 \\ \hline \end{array}$$

$$\begin{array}{r} 517 \\ +472 \\ \hline \end{array} \quad \begin{array}{r} 306 \\ +692 \\ \hline \end{array} \quad \begin{array}{r} 645 \\ +202 \\ \hline \end{array} \quad \begin{array}{r} 572 \\ +416 \\ \hline \end{array}$$

$$\begin{array}{r} 17 \\ +480 \\ \hline \end{array} \quad \begin{array}{r} 462 \\ +323 \\ \hline \end{array} \quad \begin{array}{r} 571 \\ +27 \\ \hline \end{array} \quad \begin{array}{r} 184 \\ +513 \\ \hline \end{array}$$

$$\begin{array}{r} 825 \\ +144 \\ \hline \end{array} \quad \begin{array}{r} 439 \\ +260 \\ \hline \end{array} \quad \begin{array}{r} 536 \\ +342 \\ \hline \end{array} \quad \begin{array}{r} 367 \\ +30 \\ \hline \end{array}$$

$$\begin{array}{r} 912 \\ +75 \\ \hline \end{array} \quad \begin{array}{r} 636 \\ +162 \\ \hline \end{array} \quad \begin{array}{r} 432 \\ +436 \\ \hline \end{array} \quad \begin{array}{r} 27 \\ +640 \\ \hline \end{array}$$

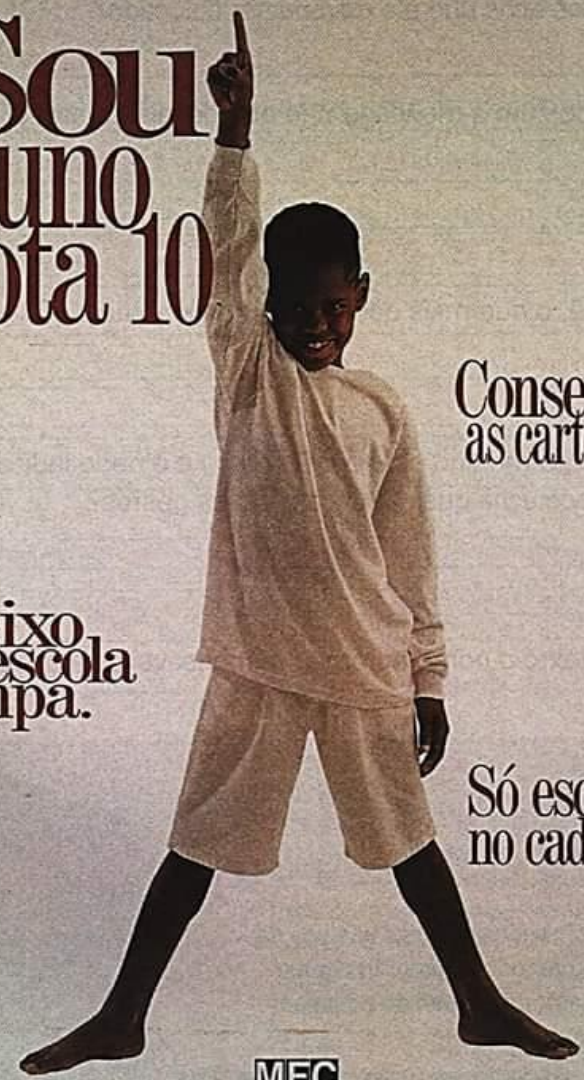
$$\begin{array}{r} 413 \\ +265 \\ \hline \end{array} \quad \begin{array}{r} 724 \\ +152 \\ \hline \end{array} \quad \begin{array}{r} 349 \\ +640 \\ \hline \end{array} \quad \begin{array}{r} 634 \\ +253 \\ \hline \end{array}$$

$$\begin{array}{r} 219 \\ +550 \\ \hline \end{array} \quad \begin{array}{r} 515 \\ +264 \\ \hline \end{array} \quad \begin{array}{r} 318 \\ +530 \\ \hline \end{array} \quad \begin{array}{r} 491 \\ +307 \\ \hline \end{array}$$

$$\begin{array}{r} 63 \\ +704 \\ \hline \end{array} \quad \begin{array}{r} 321 \\ +565 \\ \hline \end{array} \quad \begin{array}{r} 462 \\ +207 \\ \hline \end{array} \quad \begin{array}{r} 591 \\ +308 \\ \hline \end{array}$$

$$\begin{array}{r} 121 \\ +65 \\ \hline \end{array} \quad \begin{array}{r} 463 \\ +125 \\ \hline \end{array} \quad \begin{array}{r} 316 \\ +402 \\ \hline \end{array} \quad \begin{array}{r} 51 \\ +520 \\ \hline \end{array}$$

Leia o texto com atenção:



**Sou
aluno
nota 10**

Deixo
a escola
limpa.

Conservo
as carteiras.

Só escrevo
no caderno.

MEC
MINISTÉRIO DA EDUCAÇÃO
E DO ESPORTE

Brasil
EM AÇÃO

Projeto Nordeste

Cartaz desenvolvido para o Projeto Nordeste/MEC. Anual Propaganda. Foto: Masuo Okubo

Conhecimento e Transformação <https://www.facebook.com/mayrafreitascarvalho>

COMPREENDENDO O TEXTO

1- Que tipo de texto você acabou de ler?

() Notícia () Cartaz () Receita

2- Para quem o texto foi feito?

- () Para o público idoso.
- () Destina-se aos alunos.
- () Para as mulheres em geral.

3- Em que local o texto deveria ser colocado?

- () Praça
- () Escolas
- () Parques de diversões.

4- De acordo com a mensagem, o que deve fazer um aluno nota 10?

5- Qual o órgão responsável pela divulgação do cartaz?

- () Ministério da Saúde.
- () Ministério da Educação e do Desporto.
- () Ministério dos Transportes.

Conhecimento e Transformação <https://www.facebook.com/mayrafreitascarvalho>

Leia o texto com atenção:



Diário de um gato assassino

Segunda-feira

Está certo. Podem me enforcar. Eu matei o passarinho.

Tenham dó, eu sou um gato. [...] O que eu deveria fazer quando um desses novelinhos cheios de penas quase se joga dentro da minha boca? [...]

Está certo. Talvez eu não devesse ter arrastado o passarinho para dentro e o largado em cima do tapete. Pode ser que as manchas não sumam nunca. Então podem me enforcar.

Quarta-feira

Podem me espancar! Eu trouxe um ratinho morto para a preciosa casa deles. Mas eu nem sequer o matei. Quando o peguei, ele já estava morto. [...] Esta avenida é um lago de veneno de rato, carros velozes disparam para cima e para baixo o tempo todo, e eu não sou o único gato das redondezas. [...] Só sei que o achei. [...] E na hora eu achei que era uma boa ideia trazê-lo para casa. Não me pergunte por quê. Eu devia estar biruta. [...]

COMPREENDENDO O TEXTO

1- Esse diário conta a vida de quem?

2- O dono do diário mora no campo ou na cidade?

3- "*Eu matei o passarinho. Tenham dó, eu sou um gato*".

a) Nesse trecho, o gato pede:

() Que tenham pena dele por ter matado o passarinho.

() Perdão por ele ter matado o passarinho.

() Compreensão, pois os gatos são caçadores naturais e, por isso, matou o passarinho.

4- Escreva de que outra forma o gato se referiu ao passarinho:

5- Para o gato, o que ele fez de errado? Marque as alternativas corretas:

() Matou o passarinho.

() Colocou o passarinho morto no tapete.

() Pegou um ratinho morto.

() Levou o ratinho para dentro de casa.

6- Leia o 2º texto e relacione os motivos que o gato deu para a morte do rato:

(1) Morte 1

() Ataque de outros gatos.

(2) Morte 2

() Morte por envenenamento.

(3) Morte 3

() Morte por atropelamento.




Enviar

Salvar


LAURA TEM 4 ANOS, MARIA TEM O DOBRO.
QUANTOS ANOS TEM MARIA?

RESPOSTA: _____




PATRÍCIA RECEBEU 5 CAIXINHAS COM 4 BOMBONS EM CADA UMA
DELAS. QUANTOS BOMBONS PATRÍCIA RECEBEU?

RESPOSTA: _____



RENATA COMPROU UM CADERNO COM 96 PÁGINAS. JÁ USOU 45.
QUANTAS PÁGINAS FALTAM PARA ACABAR O CADERNO?

RESPOSTA: _____




QUANTAS RODAS TEM 4 MOTOS, SABENDO QUE UMA MOTO TEM 2
RODAS.

RESPOSTA: _____



DOS 84 PEIXES QUE PAPAÍ PESCOU, A MAMÃE FRITOU 24 E GUARDOU
O RESTO NA GELADEIRA. QUANTOS PEIXES ELA GUARDOU?

RESPOSTA: _____






Enviar

Salvar

UMA LOJA DE BRINQUEDOS VENDEU 43 BOLAS E 35 PETECAS.
QUANTOS BRINQUEDOS ELA VENDEU AO TODO?

RESPOSTA: _____



NUMA FESTA DE ANIVERSÁRIO HAVIA 25 MENINOS E 13 MENINAS.
QUANTAS CRIANÇAS HAVIA NA FESTA?

RESPOSTA: _____



MAMÃE DEU 12 LÁPIS A MÁCIA E 8 LÁPIS A MAURO. QUANTOS LÁPIS
MAMÃE DEU?

RESPOSTA: _____



UM MENINO POSSUIA 9 BOLINHAS E GANHOU MAIS 7 NUM JOGO.
QUANTAS BOLINHAS ELE FICOU?

RESPOSTA: _____



UM DONO DE UM SÍTIO TINHA 8 VAQUINHAS E COMPROU MAIS 6.
COM QUANTAS VAQUINHAS ELE FICOU?

RESPOSTA: _____

